

пик ПОБЕДЫ

7439 м

пик Важа Пшавела

6918 м

Лагерь 5

6900 м

Лагерь 4

6400 м

Лагерь 6

7000 м

Лагерь 2

5000 м

Лагерь 1

4300 м

Базовый Лагерь


4000 м

Тема: Кыргыз Республикасынын
аймагынын жалпы орографиялык
схемасы

8-класс

Түзгөн: география мугалими
Жунушакуннова А.Ж.

**«2022-жыл Тоолордун экосистемасын
коргоо жана климаттык туруктуулук
жылы»**



**2022-ЭЛ АРАЛЫК
ТООЛОР ЖЫЛЫ**

Кыргызстандын тоолоруна саякат





Тема: Кыргыз Республикасынын аймагынын
жалпы орографиялык схемасы

Сабактын максатын:

1. Билим берүүчү:

Кыргыз Республикасынын аймагынын жалпы орографиялык схемасы жөнүндө терең түшүнүү менен тексттин мазмунун сүйлөп бере алышат.

2. Өнүктүрүүчү :

Кыргыз Республикасынын аймагынын жалпы орографиялык схемасы боюнча картадан жана контур картадан аныктап жазуу менен тест түзүп, логикалык ой жүгүртүүсүн өстүрүөт.

3. Тарбия берүүчү:

Мекендин керемет табиятына, тоолорунан аяр мамиле жасоого, коогого жана сабакка болгон кызыгуусун арттырууга тарбияланышат.

ҮЙ ТАПШЫРМАНЫ ТЕКШЕРҮҮ

«ТЕСТ КУРЖУНУ»

1. Кыргызстандын аянты канча?
2. Кыргызстандын жалпы чек ара сызыгынын узундугу канча?
3. Кыргызстандан Түндүк Муз океанына чейинки аралык канча?
4. Кыргызстандан Инди окенына чейинки аралык канча?
5. Кыргызстандан Атлантика окенына чейинки аралык канча?
6. Кыргызстандан Тынч окенына чейинки аралык канча?
7. Кыргызстан менен Казакстандын чек ара сызыгы канча?
8. Кыргызстан менен Өзбекстандын чек ара сызыгы канча?
9. Кыргызстан менен Кытайдын чек ара сызыгы канча?
10. Кыргызстан менен Тажикстандын чек ара сызыгы канча?
11. Жеңиш чокусунун бийиктиги канча метр?
12. Ленин чокусунун бийиктиги канча?

Алыкул Осмонов. Кыргыз тоолору

Тоого тоолор курамаалап, курашып,
Узун тартып уламаалап улашып,
Амда кайдан кебез тартып келаткан,
Кербенчинин төөлөрүндөй чубашып.

Кара зоолор ар кай жерде каркайып,
Катмарлашып, калың жерде заңкайып,
Алмаз сындуу көккө тийген миздери,
Арстандын азуусундай арсайып.

Мөңгү кетпей чокулары жалтырап,
Тоодон туздар шөкүлөдөй жаркарап,
Ар жагынан, бер жагынан куш эмес,
Араң гана бороон өтөт калтырап.

Кыргыз тоосу, элдин сүйгөн тоолору,
Мындай сонун асы тоолор болорбу
Асман тиреп, жеңе билер ар качан,
Өлкөбүзгө кас санаган жоолорду.

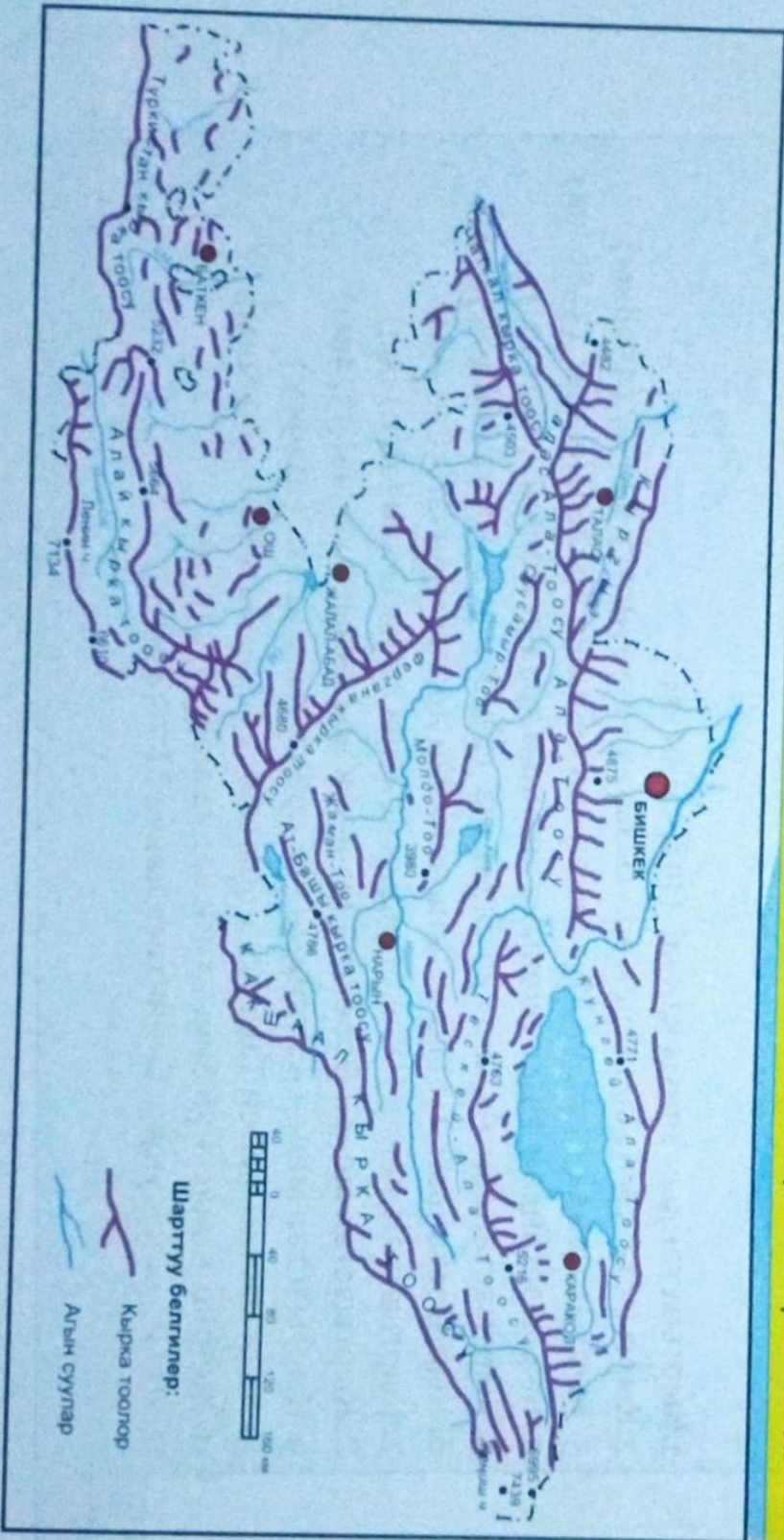


ЖООП: «ТЕСТ КУРЖУНУ»

1. Кыргызстандын аянты канча? (198,5 мин км²)
2. Кыргызстандын жалпы чек ара сызыгынын узундугу канча? (4508км)
3. Кыргызстандан Түндүк Муз океанына чейинки аралык канча? (3380 км)
4. Кыргызстандан Инди окенына чейинки аралык канча? (1670 км)
5. Кыргызстандан Атлантика окенына чейинки аралык канча? (6530 км)
6. Кыргызстандан Тынч окенына чейинки аралык канча?(3830 км)
7. Кыргызстан менен Казакстандын чек ара сызыгы канча?(1113км)
8. Кыргызстан менен Өзбекстандын чек ара сызыгы канча?(1374км)
9. Кыргызстан менен Кытайдын чек ара сызыгы канча?(1049км)
10. Кыргызстан менен Тажикстандын чек ара сызыгы канча?(972км)
11. Жеңиш чокусунун бийиктиги канча?(7439 м)
12. Ленин чокусунун бийиктиги канча ? (7134 м)


Кыргыз Республикасынын аймагынын жалпы орографиялык схемасы

Кыргызстандын аймагы Тянь-Шань (Теңир-Тоо) тоо системасынын батыш бөлүгүн жана Памир-Алай тоо системасынын түндүк бөлүгүн ээлейт. Аларды бөлүп турган табигый чек - Фергана өрөөнү. Тянь-Шань батыштан чыгышка карай 2450 кмге созулган Борбордук Азиядагы ири тоо системасы. Анын батыш жагын - дагы 1000 кмге жакын бөлүгүндө Кыргызстандын аймагынын басымдуу көпчүлүк бөлүгү орун алган. Чөг жакалары, батыш жана түндүк жагындагы кырка тоолордун кээ бирлери толугу менен, кээси жарым-жартылай Тажикстандын, Өзбекстандын жана Казакстандын аймактарына кирип кетет.



Меридиан кырка тоосу - Батыш Тянь-Шань менен Кытай Эл Республикасынын аймагындагы Чыгыш Тянь-Шандын табигый чеги – узундук боюнча түндүктөн түштүккө карай созулуп жаткан, орточо бийиктиги 6000 метрден кем болбогон тоо. Ал кырка тоо жалпы Тянь-Шань тоо системасын дээрлик тең экиге бөлөт.

Меридиан кырка тоосунан чыгышты карай да, батышты карай да Тянь-Шань түзгөн тоо кыркалары негизинен кендик боюнча таралып, улуу жайылып кең орун алган. Мисалы, Текестин өрөөнүнөн Таримге чейин болжол менен 100 км, ал эми батыштагы Чүй өрөөнү менен Чыгыш Кызыл-Суу өрөөнүнө чейин 400 км. Меридиан кырка тоосу менен Боз-Кырдын тутумундагы чокунун бийиктиги 6814 м, андан 14 км батышта мамлекеттик чек ара боюнча созулган



**Меридиан тоосу
Узловая чокусу
6814 м**



Боз-Кыр кырка тоосу –

Какшаал тоо

Тизмегинин Сарыжаз
капчыгайынан

Меридиан кырка

Тоосуна чейинки чыгыш

бөлүгү. Узундугу 85 км,

туурасы чыгышында 40–50
км, батышында 15–20 км.

Орточо бийиктиги 5000–

6000 м, эң бийик жери 7439

м (Жеңиш чокусу). Тоонун

чыгыш бөлүгү

Тугаш жаткан кар жана

мөңгүлөр менен капталган.


Эң ири мөңгүлөрү: Түштүк

Эңилчек жана анын сол

тармактары – Жылдызча,

Жапайы жана башкалар;

Кайыңды, Көйkap, Темирсуу
(түштүк капталында).



Жеңиш чокусу

Жеңиш чокусу - Ала-Тоо кыркасында

жайгашкан, тоо чокусу. Кыргыз Республикасынын
эң бийик чекити. Жеңиш чокусу кыргыз-кытай чек

арасында, Ысык-Көлдүн чыгыш тарабында, Хан-

Төңри чокусунан 16 чакырым аралыкта

жайгашып, Тянь-Шань тоо системасынын эң

бийик чокусу (бийиктиги 7439 м) болуп

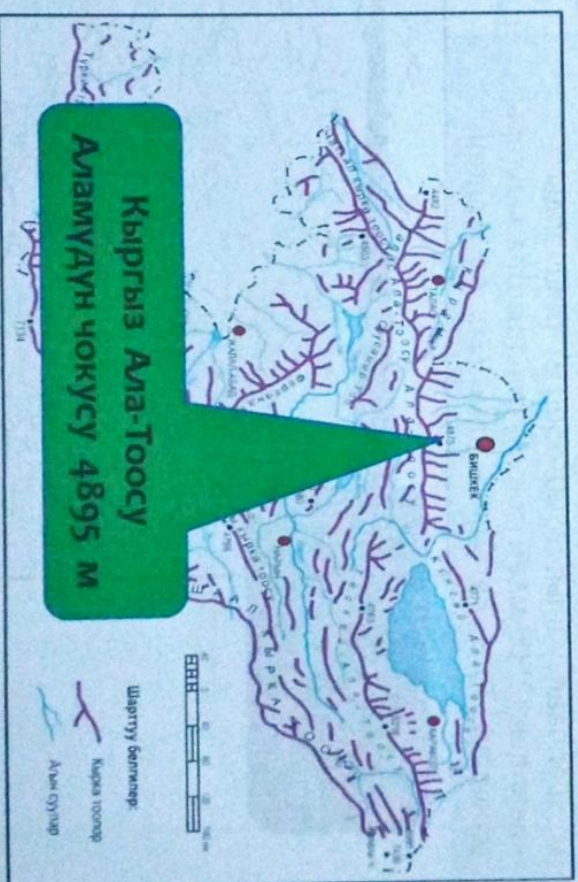
эсептелет. Базар дин, 7000 м дөн ашкан беш

чокусунун арасына кирип, жер шарынын эң


түндүк жетиминдик тоосу болуп эсептелет.

Кыргыз Ала-Тоосу орографиялык жагынан Күңгөй Ала-Тоосунун Боом капчыгайынан батышка кеткен уландысы. Боом капчыгайынан батышты карай Кыргыз Ала-Тоосу кеңдик боюнча созулуп, Тараз шаарына жакын барып бүтөт. Анын узундугу 454кмге созулуп, туурасы эң жазы жеринде 40км ден ашык. Бийик бөлүгү Кара-Балта жана Шамшы сууларынын аралыгында, эң бийик жери Бишкек шаарынын тушунда Батыш Аламудун чокусу (4895 ж), Түндүгү Чүй өрөөнү, түштүгү Талас, Суусамыр жана Кочкор өрөөндөрү менен чектелет.

Аламдун чокусу - Кыргыз Ала-Тоосундагы эң бийик чоку. Бийиктиги 4895 м. Ала-Арча менен Аламудун капчыгайларынын баш жагын болуп турган, Кыргыз Ала-Тоосунун түндүктөн-батышты көздөй кеткен тармагынан орун алган. дайыма кар, мөңгү каптап жатат.

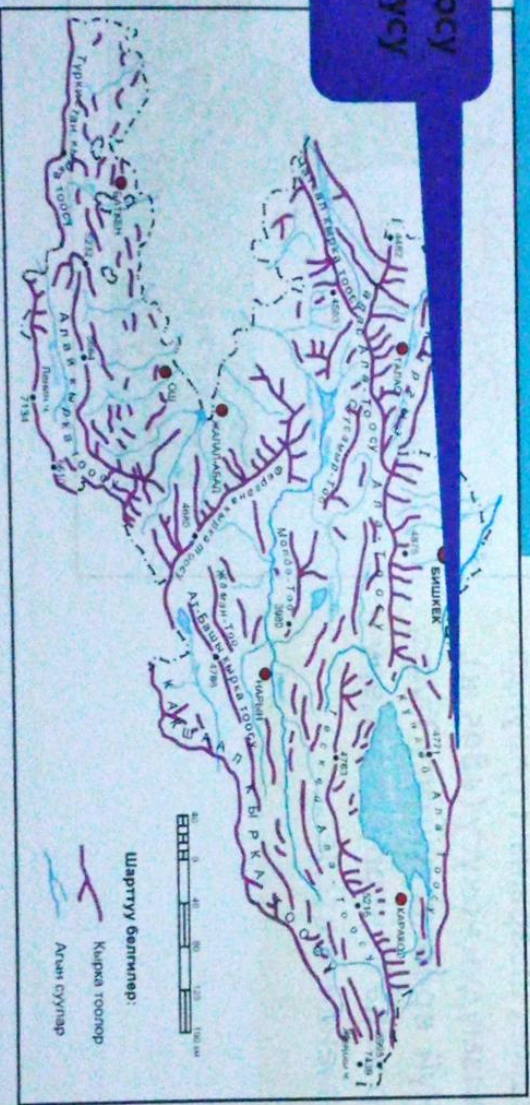


Иле Ала-Тоо – Түндүк Тенир-Тоодогу кырка тоо, Кыргызстан менен Казакстандын чегарасында. Орточо бийиктиги 3750 метрге жакын, эң бийик жери – **Талгар чокусу (4979 м).** Тоодо Тенир-Тоодогу эң байыркы тоотек катмарлары жатат. Иле Ала-Тоо борбордук бөлүгүнөн батышты жана чыгышты карай жапыздайт. Түштүк капталдары тик жана кыска, түндүгү жазы. Айрым чокулдарын мөңгү (жалпы аянтты 484 км²) каптап жатат. Түндүк капталынан Иле дарыянын, түштүгүнөн Чоң-Көмин суусунун куймалары башталат. Иле Ала-Тоосуна жарым чөл (900–1300 м), талаа (900–1900 м), токой-шалбаалуу талаа (1400–2800 м) шалбаалуу субалпы (2500–3100 м), шалбаалуу альп (3100–3500 м), гляциалдык-нивалдык (3500 мден жогору) ландшафт алкактары мүнөздүү. Түндүк этегинен Алматы ш. орун алган.



**Талгар чокусу
Казакстан**

**Иле Ала-Тоосу
Талгар чокусу
4973 м**



Тянь-Шандаын ортоңку тизмектеги тоолору

Жетим тоосу

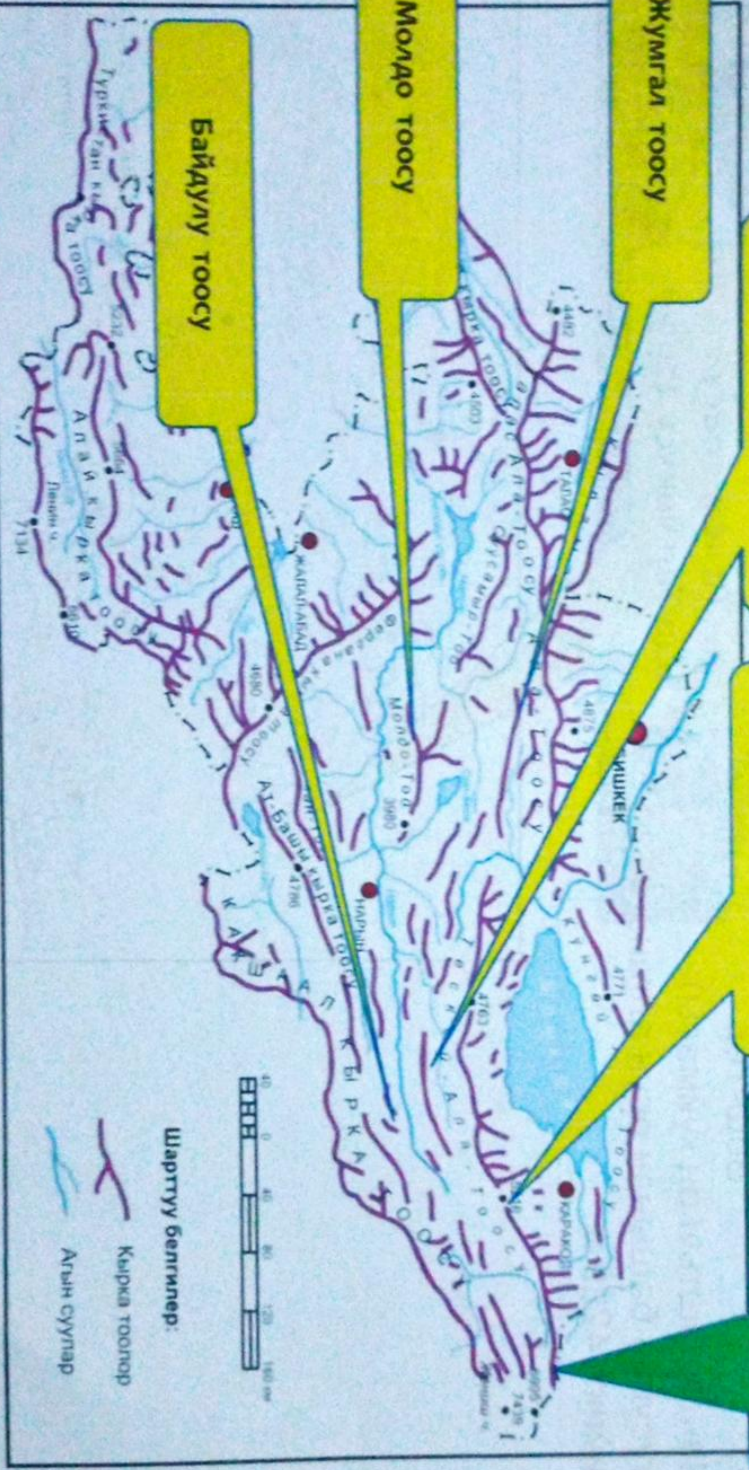
Тескей Ала-Тоо тоосу
Каракол чокусу 5216 м

Сары-Жаз тоосу
Семетов чокусу 5816 м


Жумгал тоосу

Молдо тоосу

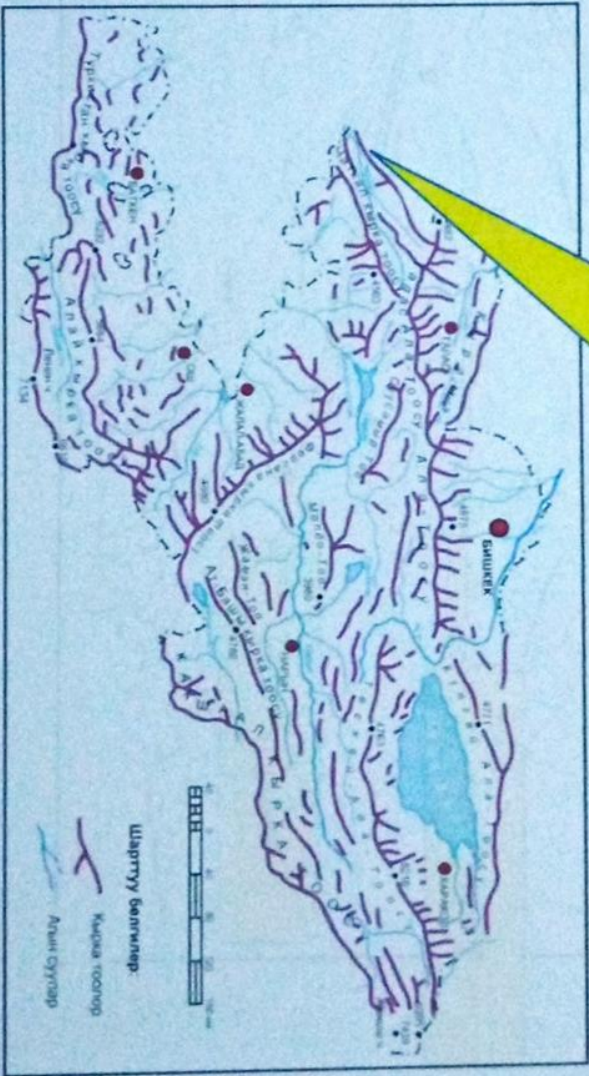
Байдулу тоосу




Пскем кырка тоосунун
 түштүк-чыгыш капталы
 гана Кыргызстанга карайт.
 Жалпы узундугу — 141 км, эң
 жазы жери — 20 км, эң бийик
 жери Беш-Төр чокусу — 4299 м.
Беш-Төр чокусу - **Пскем**
кырка тоосунда. Беш-Төр
 (Чандалаштын оң куймасы)
 суусунун башынан орун алган.
 Бийикт. 4299 м.



Пскем тоосу
Беш-Төр чокусу 4299 м



Чоң-Алай тоо кыркасы — Кыргызстандын аймагынын эң түштүк четинде Памир тоосунун түндүк чети болгон Чоң-Алай кырка тоосу орун алган. Чоң-Алай кырка тоосунун суу бөлгүчү Тажикстан менен Катар Эл Республикасынан Кыргызстандын аймагын бөлүп турган чек ара катары милдет аткарат. Алай кырка тоосу менен Чоң-Алай кырка тоосунун ортосунда кеңдик боюнча созулган Алай өрөөнү Памир тоолору менен Алай-Түркстан тоолорунун табигый чеги болуп эсептелет. Кырка тоо батышта Кызыл-Суу менен Мук-Суунун чатынан чыгышта Чыгыш Кызыл-Суу менен Маркан-Суунун кошулган жерине чейин 250 км ге кеңдик боюнча созулуп жатат. Анын ичинен 190 км Кыргызстандын четинде жатат. Эң бийик жери Ленин атындагы чокунун бийиктиги 7134 м, ал бийиктиги боюнча Кыргызстандагы экинчи орундагы чоку.



Ленин чокусу Чоң-Алай кырка тоосунун борбордук бөлүгүндөгү эң бийик чоку.

Кыргызстан менен Тажикстандын арасында. Бийиктиги боюнча (7134 м)

Кыргызстандагы Жеңиштен кийин экинчи, КМШдагы 3-чоку. Кырка тоонун чоку көтөрүлүп турган аймагы кар мөңгү менен капталган. Кар чеги түндүгүндө 4200 м, түштүгүндө 4500 м бийикте. Түндүк капталынан Корженевский (уз. 19,5 км), Ленин атындагы (9,5 км) жана Каман (8,1 км), түштүгүнөн Чоң жана Кичи Суукдар (25,2 жана 13,1 км) мөңгүлөрү башталат. Чокуга альпинисттерден 1-болуп, 1934-ж. В. Абалаков, К. Чернуха жана И. Луккин чыккан.

«Эки беттүү күндөлүк» ыкмасы
аркылуу Кыргызстандын Тянь-Шань тоо
системасын аныктагыла

№	Тоо системалары	Тоолор
1.	Тянь-Шандын түндүк тоо тизмеги	
2.	Тянь-Шандын ортоңку тоо тизмеги	
3.	Тянь-Шандын түштүк тоо тизмеги	

Жооп: «Эки беттүү күндөлүк» ыкмасы аркылуу Тянь-Шань тоо тизмектерин аныктагыла

№ Тоо системалары

тоолор

1. Тянь-Шаньдын түндүк тоо тизмеги

Күнгөй Ала-Тоо, Иле Ала-Тоосунун батышы, Кыргыз Ала-Тоосу, Талас Ала-Тоосу кирет.

2. Тянь-Шаньдын ортоңку тоо тизмеги

Тескей Ала-Тоосу Кара-Кужур, Кичи Нарын, Ара-Бел, Кум-Төр, Сары-Чат жана Жетим, Жетим-Бел тоолору жайгашкан.

3. Тянь-Шаньдын түштүк тоо тизмеги

Какшаал тоосу, Боз – Кыр, Узөңгү-Кууш

Жообу: «Баш катырма» аркылуу төмөнкү тоолорду чокулары менен дал келтиргиле

№	Тоолор
1.	Кыргыз-Ала-Тоосу
2.	Фергана тоосу
3.	Түркиястан тосуу
4.	Пскем тоосу
5.	Чаткал тоосу
6.	Чон-Алай тоосу
7.	Какшаал тоосу
8.	Талас Ала-Тоосу

А	4482 м
Б	7134 м
В	6995 м
Г	4895 м
Д	5621 м
Е	7439 м
Ё	4503 м
Ж	4893 м
З	5876 м
И	4396м

Жообу:

1	2	3	4	5	6	7	8
Г	Ж	Д	И	Ё	Б	Е	А

2-тапшырма

Контур карта менен иштөө

А) Кыргызстандын төмөнкү тоолорунун жайгашкан ордун аныктап контур картага жазгыла?

1. Чаткал тоо
2. Кашкарал тоо
3. Жаман тоо
4. Фергана тоо
5. Тесней-Ата-Тоо
6. Талас Ала тоо
7. Кыргыз Ала-Тоо
8. Молдо тоо
9. Ат-Башы кырка тоо
10. Алан кырка тоо

Б) Кыргызстандын төмөнкү бийик чокуларынын аттарын жана деңиз деңгээлинен канча метр бийиктигин контур картага белгилеп жазгыла?

11. Кзылсуу чокусу
12. Аламан чокусу
13. Тесней чокусу
14. Бөрүшү Алашудун чокусу
15. Адыгетун чокусу

Жообу: «Баш катырма» аркылуу төмөнкү тоолорду чокулары менен дал келтиргиле

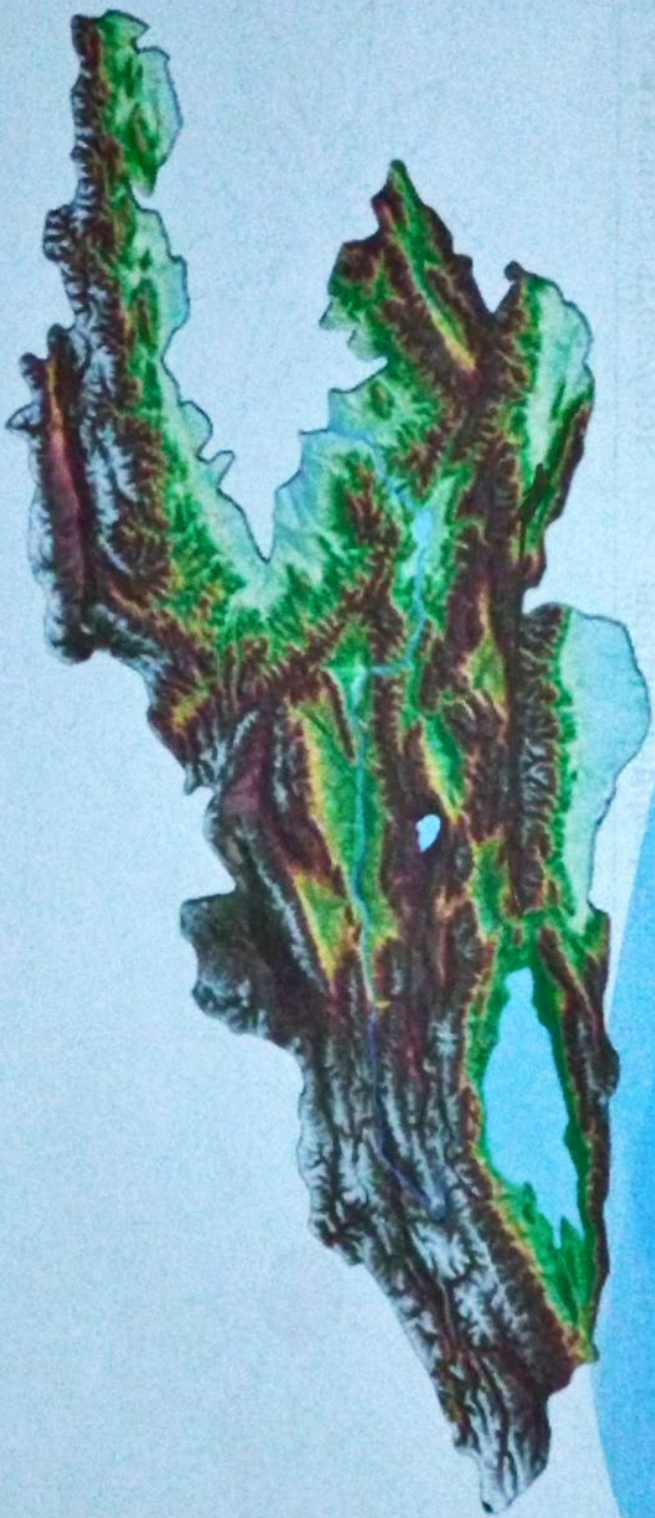
№	Тоолор
1.	Кыргыз-Ала-Тоосу
2.	Фергана тоосу
3.	Түркиястан тосуу
4.	Пскем тоосу
5.	Чаткал тоосу
6.	Чоң-Алай тоосу
7.	Какшаал тоосу
8.	Талас Ала-Тоосу

А	4482 м
Б	7134 м
В	6995 м
Г	4895 м
Д	5621 м
Е	7439 м
Ё	4503 м
Ж	4893 м
З	5876 м
И	4396м

Жообу:


1 2 3 4 5 6 7 8
Г Ж Д И Ё Б Е А

БЫШЫБИКТОО:




«Синквейн» түзүү

Тоолордун аттары



Чокулардын аттары



Чокулардын бийиктиги



Кыргызстандын тоолору жана чокулары боюнча тест менен иштөө

1. Кыргызстандагы эң бийик чоку?
А) Ленин В) Гималай С) Жеңиш Д) Хан-Тенгри
2. 7439м жана 7134 м кайсы чокулардын бийиктиги?
А) Ленин, Чок-Тал В) Пирамида, Данков
С) Жеңиш, Аскалуу Д) Жеңиш, Ленин
3. Беш-Төр чокусу кайсы тоодо жайгашкан?
А) Чандалаш тоосунда В) Туркстан тоосунда
С) Пскем тоосунда Л) Фергана тоосунда
4. Кыргызстандын Тянь-Шань тоолору канча тоо тизмектерине бөлүнөт?
А) 4 В) 5 С) 3 Л) 2
5. Тянь-Шандын түштүк тоо тизмегине кирген тоону белгилегиле?
А) Кара-Кужур тоосу В) Кыргыз-Ала тоо
С) Күңгөй Ала тоосу Д) Какшаал тоосу

Кыргызстандын тоолору жана чокулары боюнча тест менен иштөө

Жооп:

1. Кыргызстандагы эң бийик чокку?
А) Ленин В) Гималай **С) Жеңиш** Д) Хан-Теңири
2. 7439м жана 7134 м кайсы чоккулардын бийиктиги?
А) Ленин, Чок-Тал В) Пирамида, Данков
С) Жеңиш, Аскалуу **Д) Жеңиш, Ленин**
3. Беш-Төр чоккусу кайсы тоодо жайгашкан?
А) Чандалаш тоосунда В) Түркстан тоосунда
С) Пскем тоосунда L) Фергана тоосунда
4. Кыргызстандын Тянь-Шань тоолору канча тоо тизмектерине бөлүнөт?
А) 4 В) 5 **С) 3** L) 2
5. Тянь-Шандын түштүк тоо тизмегине кирген тоону белгилегиле?
А) Кара-Кужур тоосу В) Кыргыз-Ала тоо
С) Күнгөй Ала тоосу **Д) Какшаал тоосу**

“Акыл чабуул” оюну аркылуу иштөө

Сөздүктөр	
Меридиан	Манас
Семёнов	Каракол
Жеңиш	Тамдыкул
Иле	Фергана
Пскем	Туркистан
Жетим	Ленин
Какшаал	Чон Алай

Сандар сүйлөйт		
198,5	7439	7134
4482	4471	454
4895	5621	4893
4503	582	5216
6995	2450	
5539	6995	

Үй тапшырма:

1. § 2.1. КЫРГЫЗ РЕСПУБЛИКАСЫНЫН АЙМАЛТЫГЫНЫН ОРОГРАФИЯЛЫК СХЕМАСЫ ДЕГЕН ТЕМАНЫ КИТЕПТЕН ОКУ ЖАНА ТЕСТ ТҮЗҮ.
2. КЫРГЫЗСТАНДЫН ТООЛОРУН ЖАНА ЧОКУЛАРЫН КАРТАДАН АНЫКТАП, КОНТУР КАРТАГА ЖАЗУ

